

**Thakur Educational Trust's (Regd)**  
**THAKUR VIDYA MANDIR HIGH SCHOOL & JUNIOR COLLEGE**  
**III Terminal Examination 2016-17**  
**Subject: EVS - I**

Std:V

Marks: 48

Date: 10.04.2017

Time : 2 hrs.

**QIA) Fill in the blanks: (5)**

- 1) In \_\_\_\_\_ season , foodstuffs remain unspoiled for a longer period.
- 2) Natural fertilizers are called \_\_\_\_\_.
- 3) Movement of the earth around the sun is called its \_\_\_\_\_.
- 4) Kangaroos are found only in the \_\_\_\_\_.
- 5) The \_\_\_\_\_ extends under the water also.

**QIB) Match the column: (3)**

**A**

**B**

- |  |  |
|--|--|
| 1) Pluto<br>2) Diarrhoea<br>3) Grains stored in dry air<br>4) MOM<br>5) Chickenpox<br>6) Drip irrigation | a) prevents growth of fungus<br>b) Mars Orbit Mission<br>c) pipes with holes<br>d) infectious disease<br>e) dwarf planet<br>f) spreads through food. |
|--|--|

**QIC) Write whether the following statements are true or false. Correct the false statements: (5)**

- 1) The sun is not the cause of many natural processes on the earth.
- 2) Planets have their own light.
- 3) Storing grains is an important task.
- 4) When something is boiled, the microorganisms in it are destroyed.
- 5) There is only one way of farming.

**QI D) Classify the following substances into solid, liquid and gas: (3)**

(carbon dioxide, stone, oil, lemon juice, wood, nitrogen)

Solid	Liquid	Gas

**QII A) Name the following : (6)**

- 1) One Ocean
- 2) One preservative substance
- 3) One gas in the atmosphere
- 4) The natural Satellite of the earth.
- 5) Scientists who travel in the spacecraft.
- 6) Vaccine given to children after birth in first few days.

**Q II B) Write the difference between the small intestine and the large intestine. (2)**

**QIIC) Answer in one sentence: (any 6) (6)**

- 1) What is space?
- 2) What is a continent?
- 3) What are the different methods of preserving food?
- 4) Write the two main seasons for agriculture.
- 5) What is meant by heredity?
- 6) What is a glacier?
- 7) What is an orbit?

**QIIIA) Give reasons for the following: (any 3) (6)**

- 1) Vaccination is done at the time of pilgrimage.
- 2) Pollution and epidemics of infectious diseases are threats to community health.
- 3) Tablets of camphor decrease in size day by day..
- 4) To spit in a public place is forbidden by law.

**QIIIB) Answer in Brief: (any 3) (6)**

- 1) What is the benefit of wholesome life ?.
- 2) How does our personality grow?
- 3) Which preventive measures are done against epidemic of malaria ?
- 4) What are the ill effects of alcoholism ?

**QIII C) Draw a neat and labelled diagram of digestive system. (4)**

**QIII D) Application based question. (2)**

- 1) What will you say to the person spitting in the garden of your society? Why ?

**ALL THE BEST**

**Q IA) Fill in the blanks: (5)**

- 1) The surface of the earth took about \_\_\_\_\_ crore years to cool down.
- 2) The change in \_\_\_\_\_ pattern enabled the groups of the Homo sapiens to roam to faraway regions.
- 3) People staying in the village settlements belonged to a single \_\_\_\_\_.
- 4) The \_\_\_\_\_ Age was the age of many inventions and rapid changes.
- 5) The art of \_\_\_\_\_ was developed in all ancient civilizations.

**Q IB) Write True or False: (5)**

- 1) Animals can reproduce their young ones.
- 2) The Neanderthal man mainly lived in caves.
- 3) Dog was domesticated in the Old Stone Age.
- 4) The soldiers were entrusted with the responsibility of protection of the village.
- 5) Mesopotamia is the name of a region.

**Q IC) Match the following: (5)**

- | <b>A</b> | <b>B</b>                 |
|----------|--------------------------|
| 1) Earth | a) used for hunting      |
| 2) Tents | b) a soft metal          |
| 3) Dogs  | c) a stringed instrument |
| 4) Gold  | d) existence of life     |
| 5) Balag | e) animal hides          |

**Q IIA) Answer in one sentence: (7)**

- 1) Which instrument do we need to see a unicellular organism?
- 2) What is the characteristic feature of New Stone Age culture?
- 3) In which way of life was man required to keep moving all the time?
- 4) What is animal husbandry?
- 5) Which factor contributed to the emergence and development of cities?
- 6) Which is the most important invention of the Copper Age?
- 7) Where did the people in the New Stone Age establish their village settlements?

**Q IIB) Give reasons for the following statements: (4)**

- 1) The wheeled vehicles like carts and chariots were brought into use.
- 2) Music and dance were very important in early civilizations.

**Q IIIA) Answer in brief: (4)**

- 1) Which are the factors that brought together people engaged in different types of work?
- 2) What made the soil on the banks of the river Nile fertile?

**Q IIIB) Write a short note on (Any one): (2)**

- 1) Mesopotamian civilization.
- 2) Characteristics of the Harappan civilization.

**All the best**

विषय – हिन्दी

अंक –

80

दिनांक : 08 .04.2017

कक्षा – पाँचवी

समय : 2

घंटे 45 मिनट

( कहानी पर आधारित )

प्र. 1 अ) पठित गद्यांश के आधार पर नीचे दिए गए प्रश्नों के उत्तर लिखिए :

पृथ्वी के भीतर चट्टानों की परतों के आगे – पीछे खिसकने से धरती हिलने लगती है। यही भूकंप है। इससे छत, दीवारे आदि गिरने लगती हैं। ऐसे समय तुरंत घर के बाहर खुली जगह में जाना चाहिए या मेज, लकड़ी के तख्त के नीचे, दरवाजे के पीछे छिपना चाहिए।

प्र I निम्नलिखित प्रश्नों के उत्तर एक – एक पूर्ण वाक्य में लिखिए ।

अ) भूकंप क्या है ?

1

ब) भूकंप आने पर क्या होता है ?

1

प्र II. रिक्त स्थानों की पूर्ति कीजिए :

अ) भूकंप आने पर \_\_\_\_\_ के तख्त के नीचे, \_\_\_\_\_ के पीछे छिपना चाहिए।

1

ब) भूकंप की सूचना मिलते ही हमे \_\_\_\_\_ के बाहर \_\_\_\_\_ जगह में जाना चाहिए।

1

प्र III विरुद्धार्थी शब्द लिखिए।

1

1) तुरंत                      2) खुली

प्र III. अ) अपना यह नया रूप बहुत अच्छा लगता है।

1

(वाक्य में आए सर्वनाम रेखांकित कीजिए)

ब) उसपर बैलगाड़ी, ताँगा, ऊँटगाड़ी जैसे वाहन चलते थे।

1

(वाक्य में आए संज्ञा रेखांकित कीजिए)

प्र.2 ब) पठित गद्यांश के आधार पर नीचे दिए गए प्रश्नों के उत्तर लिखिए :

सुदामा – बच्चे तो बंदर होते हैं। इसलिए खेलते ही रहेंगे।

बंडूभाऊ – लेकिन जब आसपास कहीं समुद्र नहीं है तो बच्चे बंदर पर कैसे जाएँगे ?

सुदामा – अच्छा जरा बैठो। मैं भींगा हुआ स्वेटर सुखाने के लिए फैला आता हूँ।

बंडूभाऊ – तुम ऊन के स्वेटर को ऊन में कैसे सुखा सकते हो !

प्र I निम्नलिखित प्रश्नों के उत्तर एक – एक पूर्ण वाक्य में लिखिए ।

2

अ) बच्चे क्या होते हैं ?

ब) किसे अपना स्वेटर सुखाना है ?

प्र II निम्नलिखित वाक्य किसने – किससे कहा है।

1

अ) तुम ऊन के स्वेटर को ऊन में कैसे सुखा सकते हो ?

प्र III रेखांकित किया के काल पचानकर उसके प्रकार लिखिए

1

अ) मैं भीगा हुआ स्वेटर सुखाने के लिए फैला आता हूँ।

प्र IV समानार्थी शब्द लिखिए।

1

1) भीगा – 2) बंदर –

प्र. 2.अ] निम्नलिखित प्रश्नों के उत्तर एक – एक पूर्ण वाक्य में लिखिए।

4

- 1) पेटूराम ने दूध के साथ क्या मँगवाया ?
- 2) सडक सदा कैसी रहना चाहती हैं ?
- 3) 26 जनवरी किस रूप में मनाया जाता है ?
- 4) दोनो भाइयों के सिर पर क्या था ?
- 5) दूसरी स्त्री के बेटे से कौन घबरा ?

ब] रिक्त स्थानों की पूर्ति कीजिए :

4

- 1) किसी नदी के किनारे एक—— पडा था।
- 2) जो जितनी अधिक भाषाएँ सीखता है, उसका—— उतना ही बढ़ता है।
- 3) वर्ष ने कहा, " पहले मैं—— लूँगा। "
- 4) अचानक दोनों भाई एक – दूसरे से—— गए।

स] निम्नलिखित में से उचित विकल्प चुनकर वाक्य पूर्ण कीजिए।

4

- 1) बंडूभाऊ के अनुसार खत .....  
क] पत्र – पेटी में डालते हैं।  
ख] खेत में डालते हैं।  
ग] कचरा – पेटी में डालते हैं।
- 2) बच्चों ने छुक – छुक गाडी का खेल खेला, क्योंकि .....  
क] यह उनके लिए नया था।  
ख] यह सबको पसंद था।  
ग] पाठशाला में छुट्टी थी।
- 3) बडा भाई अकेला नहीं था क्योंकि .....  
क] उसके दो नौकर थे।  
ख] उसके लडकी भी थी।  
ग] उसके दो बच्चे थे।
- 4) विहंग के पिता जी .....  
क] अच्छी बहस करते है।  
ख] मजेदार चुटकुले सुनाते हैं।  
ग] न्यायालय के किस्से सुनाते हैं।

द] सही विधान के सामने का और गलत विधान के सामने का चिह्न लगाओ।

2

अ) भूकंप का कारण अधिक बारिश है।

ब) सड़क लोगों में मेल – जोल बढ़ाना चाहती है।

(कविता पर आधारित )

प्र 4. पठित कविता के आधार पर प्रश्नों के उत्तर एक वाक्य में लिखिए ।

6

मेरी सूखी पत्ती डालो,  
ऊनी कपड़े, अनाज बचा लो।  
सूखी पत्ती के धुएँ से,  
मक्खी-मच्छर दूर भगा लो।  
घनी पत्तियों के कारण,  
शीतल है मेरी छाया।  
गरमी और थकान मिटी,  
जो मेरे नीचे आया।

प्र I निम्नलिखित प्रश्नों के उत्तर एक – एक पूर्ण वाक्य में लिखिए ।

अ) नीम की सूखी पत्ती से क्या बचा सकते हैं ?

1

ब) नीम के पेड़ की छाया शीतल क्यों होती है ?

1

प्र II. रिक्त स्थानों की पूर्ति कीजिए :

अ) सूखी पत्ती के धुएँ से, \_\_\_\_\_ दूर भगा लो।

1

ब) \_\_\_\_\_ और थकान मिटी, जो मेरे नीचे आया।

1

प्र III विरुद्धार्थी शब्द लिखिए।

2

1) गरमी      2) दूर

प्र. 5. अ] निम्नलिखित प्रश्नों के उत्तर एक – एक पूर्ण वाक्य में लिखिए ।

4

- 1) नीम के पेड़ को क्यों नहीं काटना चाहिए ?
- 2) हमारी बोली कैसी होनी चाहिए ?
- 3) नीम अपने आप को क्या-क्या नहीं मानता ?
- 4) हमें किसके समान आगे बढ़ना है ?

ब] रिक्त स्थानों की पूर्ति कीजिए :

4

- 1) मैं तो केवल एक पेड़ हूँ, नाम है मेरा \_\_\_\_\_ ।
- 2) जीवन है \_\_\_\_\_ का नाम।
- 3) सबको \_\_\_\_\_ से करो प्रणाम।
- 4) \_\_\_\_\_ जैसा सबको जानो।

स] निम्नलिखित में से उचित विकल्प चुनकर वाक्य पूर्ण कीजिए ।

2

- 1) हमें सूरज के समान .....

क] ऊपर उठना है।

ख] मुस्कराना है।

ग] जगमगाना है।

2) हमें कभी .....

क] अभ्यास नहीं करना है।

ख] सहयोग नहीं करना है।

ग] विश्राम नहीं करना है।

द] सही विधान के सामने  का और गलत विधान के सामने  का चिह्न लगाओ।

2

अ) नीम एक निरूपयोगी पेड़ है।

ब) जो चलता है वह आगे बढ़ता है।

(व्याकरण पर आधारित)

प्र. 6.अ] समानार्थी शब्द लिखिए। (कोई दो)

2

1) अचानक                      2) सूरज                      3) डाल

ब] विरुद्धार्थी शब्द लिखिए। (कोई दो)

2

1) शुरू                      2) धरती                      3) तुरंत

स] लिंग बदलिए। (कोई दो)

2

1) बूढ़ा                      2) वर                      3) ग्वालिन

द] वचन बदलिए। (कोई दो)

2

1) कथाएँ                      2) मोर                      3) चप्पल

ल] रेखांकित संज्ञाओं के भेद लिखिए। (कोई दो)

2

1) सतीश हवाई अड्डे पर उतरा।  
2) दूध और घी स्वास्थ्य के लिए लाभदायक है।  
3) चीटियाँ परिवार में रहती हैं।

क] रेखांकित सर्वनाम के भेद लिखिए। (कोई दो)

2

1) मेरी माँ अपना काम स्वयं करती है।  
2) कौन आया है ?  
3) जैसी करनी, वैसी भरनी।

ख] रेखांकित विशेषण के भेद लिखिए। (कोई दो)

2

1) साल में बाहर महीने होते हैं।  
2) वह खिलौना किसका है ?  
3) मुझे थोड़ा पानी पिला दो।

ग] किया रेखांकित कीजिए। (कोई दो)

2

1) घोड़ा दौड़ता है।



- 2) आलोक बाग में टहलने गया।
- 3) लोग अपने घर विविध रूपों से सजाते हैं।

घ] काल पहचानिए। (कोई दो)

2

- 1) मैंने पत्र लिखा है।
- 2) आज बच्चे गेंद नहीं खेलेंगे।
- 3) माँ ने आज बहुत सारी रोटियाँ बनाई थी।

प्र. 7. अपने प्रधानाध्यापिका को संगीत प्रतियोगिता में भाग लेने हेतु आवेदन पत्र लिखिए।

5

अथवा

सात दिनों की छुट्टी माँगते हुए वर्गाध्यापक को आवेदन पत्र लिखिए।

प्र. 8. अपठित गद्यखण्ड के आधार पर दिए गए प्रश्नों के उत्तर लिखिए।

5

पंडित जवाहरलाल नेहरू का जन्म 14 नवम्बर 19 को इलाहाबाद में हुआ था। उनके पिता का नाम पंडित मोतीलाल नेहरू और माता का नाम स्वरूपरानी था। इनकी पत्नी का नाम कमला नेहरू था। बेटी इंदिरा थी जो भारत की प्रथम महिला प्रधान मंत्री बनीं।

जवाहरलाल नेहरू की शिक्षा इंग्लैण्ड में हुई। वे वहाँ से बैरिस्टर बनकर भारत आए। उन्हें विज्ञान और साहित्य में विशेष रुचि थी।

स्वदेश लौटने पर वे गांधी जी के सम्पर्क में आए और देश सेवा में लग गए। वे राष्ट्रपिता महात्मा गांधी के सच्चे अनुयायी थे। देश आजाद होने पर वे देश के पहले प्रधान मंत्री चुने गए। उन्होंने दुनिया को शांति का संदेश दिया उन्हें शांतिदूत कहते हैं। उनका जन्मदिन बालदिवस के रूप में मनाया जाता है।

प्रश्न

- 1) पंडित जवाहरलाल नेहरू का जन्म कब और कहाँ हुआ था ?
- 2) पंडित जवाहरलाल नेहरू के जन्मदिन को किस रूप में मनाते हैं ?
- 3) पंडित नेहरू किसके अनुयायी थे ?
- 4) पंडित नेहरू को शांतिदूत क्यों कहते हैं ?
- 5) पंडित नेहरू के पिता का नाम क्या था ?

प्र. 9. निम्नलिखित विषयों में से किसी एक विषय पर आठ – दस पंक्तियों में निबंध लिखिए।

8

- 1) होली
- 2) आदर्श विद्यार्थी
- 3) गाय

शुभकामनाएँ

ठाकुर विद्या मंदिर हायस्कूल अॅण्ड ज्युनियर कॉलेज  
तृतीय सत्र परीक्षा –2016-17

विषय – मराठी

गुण –80

दिनांक : 05 .04.2017

इयत्ता – पाचवी

वेळ –2

तास 45 मि.

प्र. 1ला. अ) खालील उतारा वाचून प्रश्नांची उत्तरे लिहा

विठ्ठल रामजी उर्फ अण्णासाहेब शिंदे यांचा जन्म जमखंडी गावी झाला. अण्णासाहेबांच्या वडिलांचे नाव रामजी आणि आईचे नाव यमुनाबाई होते.

लहानग्या विठ्ठलला खेळाची अत्यंत आवड होती. हुतुतू , खो – खो, सुरपारंब्या यांसारखे खेळ खेळण्यात लहानगा विठ्ठल सदैव पुढे असे. लहानपणीच्या या खेळांमध्ये विठ्ठलचा धीटपणा व सहनशीलता दिसून येई. त्याचे वडील धार्मिक वृत्तीचे होते. त्यांच्या धार्मिक वृत्तीचा विठ्ठलवरही परिणाम झाला होता. सर्व जातिधर्मांचे लोक त्यांच्या घरी येत असत. माणसामाणसांत भेद करणे योग्य नाही, याचा संस्कार घरातील वातावरणामुळे लहानग्या विठ्ठलच्या मनावर उमटला.

प्रश्न :

खालील प्रश्नांची उत्तरे लिहा.

1) विठ्ठलचा जन्म कोठे झाला ?

1

2) विठ्ठल कोणकोणते खेळ खेळत असे ?

1

3) विठ्ठलच्या मनावर कोणता संस्कार उमटला होता ?

1

4) लोक विठ्ठल रामजी शिंदे यांना कोणत्या नावाने ओळखत ?

1

5) लहानपणीच्या खेळातून विठ्ठलचे कोणते गुण दिसून येतात ?

1

ब) रिकाम्या जागी योग्य शब्द लिहा.

2

1) सर्व \_\_\_\_\_ लोक त्यांच्या घरी येत.

2) त्यांच्या \_\_\_\_\_ वृत्तीचा विठ्ठलवरही परिणाम झाला होता.

आ) खालील उतारा वाचून प्रश्नांची उत्तरे लिहा.

मलण्णा शेतावरून घरी आला. त्याने दोन्ही बैलांना गोठ्यात बांधले. त्यांना चारा, पाणी दिले.

हातपाय धुऊन तो घरात गेला. त्याची पत्नी मालती हिने भाजीभाकरी केली होती. दोघांनी जेवण केले. मलण्णा शेतातील कामाने खूप दमला होता. अंथरुणावर पडताच त्याला झोप लागली. सकाळी तो लवकर उठला. बाहेर आला. पाहतो तर काय! गोठ्यात एकच बैल. दुसरा बैल गायब!

" अगं गोठ्यात एकच बैल आहे. आपला दुसरा कुठे गेला ? " मलण्णाने घाबरून मालतीला विचारले. मालती झटकन बाहेर आली. तिलाही या गोष्टीचे नवल वाटले.

मलण्णाने आणि मालतीने गावात बैलाचा शोध सुरू केला गावभर, पण बैल काही सापडेना. दोघेही खूप थकले. घरी आले. आता काय करावे ? बैल कोठे गेला असेल ? एकच बैल. शेती कशी करायची ? मलण्णा डोक्याला हात लावून बसला.

प्रश्न :

क) खालील प्रश्नांची उत्तरे लिहा.

3

- 1) मालतीला कोणत्या गोष्टीचे नवल वाटले ?
- 2) मलण्णा डोक्याला हात लावून का बसला ?
- 3) मलण्णाने बैलांना कोठे बांधले ?

ख) कोण कोणास म्हणाले ?

1

- 1) "अगं गोठ्यात एकच बैल आहे."

ग) रिकामी जागा भरा.

1

- 1) मालती \_\_\_\_\_ बाहेर आली.

घ) खालील अर्थाचे वाक्यप्रचार वरील उता यातून शोधून लिहा.

2

- 1) विचारात पडणे –
- 2) खूप दमणे –

इ) खालील संवाद वाचून प्रश्नांची उत्तरे लिहा

दिनूची आई आजारी होती. तो स्वयंपाकघरात आईसाठी चहा करत होता. दारावरची बेल

वाजली. त्याने दार उघडले, तर समोर त्याची वर्गमैत्रीण फातिमा उभी होती. त्याने तिला घरात

बोलावले.

दिनू : फातिमा ये बस.

फातिमा : दिनू, तू काय करतोस ?

दिनू :- आईसाठी चहा करतोय. तुझ्यासाठीही करू का ?

फातिमा :- (हसत, हसत)नको, मी चहा घेत नाही. काय रे! एक कप चहा करण्यासाठी एवढं मोठं पातेलं ?

दिनू :- काय बिघडलं ?

फातिमा :- अरे, छोटं पातेल घेतलं असतंस, तर पाणी लवकर उकळलं असतं.

प्रश्न :

क) खालील प्रश्नांची उत्तरे लिहा.

- 1) वरील संवाद कोठे झाला ?

1

ख) कोण कोणास म्हणाले?

2

- 1) " तुझ्यासाठीही करू का ?"
- 2) " नको, मी चहा घेत नाही."

ग) रिकाम्या जागा भरा.

2

- 1) तो स्वयंपाकघरात \_\_\_\_\_ चहा करत होता.
- 2) दिनूची आई \_\_\_\_\_ होती.

ई) अशा वेळी तुम्ही काय कराल, ते लिहा.

3

- 1) तुमच्या घरच्या फोनवर अनोळखी व्यक्तीचा फोन आला आहे.
- 2) एखादी अनोळखी व्यक्ती पत्ता शोधत तुमच्या घरी आली आहे.
- 3) तुमच्या शाळेतील एखादा अपंग विद्यार्थी तुमच्या घराजवळ राहतो.

प्र. 2 रा अ) खालील कविता वाचून प्रश्नांची उत्तरे लिहा.

मउमउ वाळूत पाय रोवुनी,  
देऊ झटका दोरा ओढुनि,  
पतंग जातिल वर वर चढुनी,  
पंख नको त्याजला.  
जशी पाखरे आभाळात,  
पंख पसरुनी तरंगतात,  
दिसतिल तैसे पतंग रंगित,  
खेळ किती चांगला!

— अ. ज्ञा. पुराणिक

प्रश्न :

क) खालील प्रश्नांची उत्तरे लिहा.

- 1) आभाळात जाण्यासाठी पतंगाला कशाची गरज लागत नाही?  
1
- 2) पतंग कोणासारखे तरंगतात ?  
1
- 3) वाळू कशी आहे?  
1
- 4) वरील कविता कोणी लिहिली आहे ?  
1

ख) रिकाम्या जागा भरा.

2

जशी ..... आभाळात,  
..... पसरुनी तरंगतात,  
दिसतिल तैसे ..... रंगित,  
खेळ ..... चांगला !

आ) खालील कविता वाचून प्रश्नांची उत्तरे लिहा.

छोटेसे बहीणभाऊ,  
उदयाला मोठाले होऊ,  
उदयाच्या जगाला, उदयाच्या युगाला  
नवीन आकार देऊ.

ओसाड, उजाड जागा,  
होतील सुंदर बागा,  
शेतांना, मळयांना, फुलांना, फळांना,  
नवीन बहार देऊ.

मोकळया आभाळी जाऊ,  
मोकळया गळयाने गाऊ,  
निर्मळ मनाने, आनंदभराने,  
आनंद देऊ अन् घेऊ.

प्रश्न :

क) खालील प्रश्नांची उत्तरे लिहा.

5

- 1) बहीणभाऊ कधी मोठे होतील ?
- 2) बहीणभाऊ कोणाला नवीन आकार देणार आहेत ?
- 3) बहीणभाऊ बागा कोठे फुलविणार आहेत ?
- 4) बहीणभाऊ बहार कोणाला देणार आहेत ?
- 5) मोकळया आभाळी कोण जाणार आहे ?

ख) कवितेच्या ओळी पूर्ण करा.

1

मोकळया .....

..... गाऊ

इ) खालील कविता वाचून प्रश्नांची उत्तरे लिहा.

फुलवेली मज सुमने देती,  
कुठे लव्हाळी खेळत बसती,  
कुठे आम्रतरू माझ्यावरती,  
शीतल अपुली छाया धरती.

पाणी पिऊनी पक्षी जाती,  
घट भरुनी कोणी जल नेती,  
गुरे – वासरे जवळी येती,  
मुले खेळती लाटांवरती.

मी कोणाची – मी सर्वांची,  
बांधुनिही मज नेणा यांची !  
जेथे जाईन – तेथे फुलवीन,  
बाग मनोहर आनंदाची !  
– वि. म. कुलकर्णी.

प्रश्न :

क) खालील प्रश्नांची उत्तरे लिहा.

3

- 1) नदीवर शीतल छाया कोण धरते ?
- 2) नदी जेथे जाईल तेथे काय करेल ?
- 3) मुले कोठे खेळतात ?

ख) कवितेच्या ओळी पूर्ण करा.

1

फुलवेली.....

..... बसती.

ग) जोडया लावा.

2

अ गट

- 1) घट
- 2) फुलवेली
- 3) शीतल
- 4) नदी

ब गट

- 1) सर्वाची
- 2) छाया
- 3) जल
- 3) सुमने

प्र 3 रा क) खालील शब्दांना समानार्थी शब्द लिहा.(कोणतेही चार)

4

- 1) कार्य -
- 2) निर्मळ -
- 3) नवल -
- 4) मऊ -
- 5) भेद -
- 6) कट्टा -

ख) खालील शब्दांना विरुद्धार्थी शब्द लिहा. ( कोणतेही चार )

4

- 1) जन्म x
- 2) जड x
- 3) डावा x
- 4) दानशूर x
- 5) भराभर x
- 6) खरेदी x

ग) खालील शब्दांची लिंगे बदला. ( कोणतेही दोन )

2

- 1) बैल -
- 2) बाबा -
- 3) कावळा -

घ) खालील शब्दांची वचने बदला. ( कोणतेही दोन )

2

- 1) फुलपाखरू -
- 2) माकड -
- 3) पतंग -

च) खालील वाक्य शुद्ध करून पुन्हा लिहा.

1

आई कपाडात पैसे शोधू लागली.

छ) खालील वाक्यातील विरामचिन्हे घालून वाक्य पुन्हा लिहा.

1

काय ग एवढा मध गोळा करून तुला काय मिळणार

प्र. ४था अ) खालील वाक्यातील नामे ओळखा.

2

- 1) मारियाने खिडकी उघडली.
- 2) मिनूला पिसे मिळाली.

ब) खालील वाक्यातील सर्वनामे ओळखा.

2

- 1) मी सगळ्यांना पाणी देते.
- 2) आज तू माझं ओझं हलकं केलस.

क) खालील वाक्यातील विशेषणे ओळखा.

2

- 1) काकांनी कोरं पत्र पाठवल.
- 2) आईचे हात लालेलाल झाले होते.

ड) खालील वाक्यात योग्य क्रियापदे घालून वाक्ये पूर्ण करा.

2

(पडली, असतो, चालते, उठतो)

1) गोगलगाय हळूहळू .....

2) संजय लवकर .....

प्र. 5वा. तुमच्या मित्राला / मैत्रिणीला तुमच्या वाढदिवसाचे आमंत्रण देणारे पत्र लिहा.

5

( लिफाफा आवश्यक )

प्र. 6वा. अ) खालील पैकी कोणत्याही एका विषयावर निबंध लिहा

8

1) माझा आवडता नेता

2) माझी आई

3) माझा आवडता रंग

4) माझे घर

प्र. 7वा. खालील उतारा वाचून प्रश्नांची उत्तरे लिहा

झाड हा आपला मित्र आहे. झाडे आपल्याला जीवन जगण्यास मदत करतात. झाडांमुळे आपल्या अन्न, वस्त्र, निवारा ह्या गरजा पूर्ण होतात. झाडे आपल्याला फुले, फळे देतात. घरासाठी इमारतीसाठी लाकूड देतात. झाडांच्या तुटून पडलेल्या पानांपासून खत तयार केले जाते. झाडांमुळे आपणास शुध्द हवा मिळते. झाडांपासून औषधे बनवली जातात.

झाडे स्वतः उन्हात उभे राहतात व इतरांना सावली देतात. झाडांमुळे जमिनीची धूप थांबते. झाडे प्रदुषण कमी करतात.

आपल्याला उपयोगी पडणारे झाडं, हा आपला चांगला मित्र आहे.

प्रश्न :

1) आपणास जीवन जगण्यास कोण मदत करते ?

1

2) झाडांमुळे आपल्या कोणत्या गरजा पूर्ण होतात ?

1

3) तुटून पडलेल्या पानांपासून काय तयार केले जाते ?

1

4) झाडांमुळे काय थांबते ?

1

5) झाडे काय कमी करतात ?

1

हार्दिक शुभेच्छा

# पाचवी - गणित (इंग्रजी माध्यम)



Maharashtra Vidya Pradhikaran, Pune-30

Pragat Shaikshanik Maharashtra

Educational Achievement Test

Summative Evaluation 2 : 2016-17

Standard : Fifth - Subject : Mathematics (Written)

Name of the Student : \_\_\_\_\_

Name of the School : \_\_\_\_\_

Cluster : \_\_\_\_\_ Taluka : \_\_\_\_\_ District : \_\_\_\_\_ Date : / 04 / 2017

Roll No. :  Div. :

Marks obtained :

Teacher's Signature : \_\_\_\_\_

Written marks :

Each question carries one mark. Solve all questions.

Q. 1) Write in numerals.

Two thousand three hundred two

Q. 2) Write in words.

1229

Q. 3) Add.

$$\begin{array}{r} + 426 \\ 213 \\ \hline \end{array}$$

Q. 4) Subtract.

$$\begin{array}{r} - 925 \\ 212 \\ \hline \end{array}$$



Q. 5) Write the number from the given expanded form.

$$2000 + 700 + 3 = \boxed{\phantom{0000}}$$

Q. 6) Sudhakar has 26 marbles. Shanta gives 75 marbles to him. How many marbles Sudhakar has now ?

Q. 7) Multiply.

$$\begin{array}{r} 45 \\ \times 5 \\ \hline \hline \end{array}$$

Q. 8) Divide.

$$6 \overline{) 18.7}$$

Q. 9) Add.

$$6720 + 495$$

Q. 10) Subtract.

$$5415 - 390$$

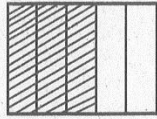
Q. 11) Population of Shirapur is 3,217 and that of Chandanapuri is 15,351. By how much is the population of Chandanapuri greater than Shirapur ?

Q. 12) Snehal bought 35 books each for ₹ 120 and donated to the school. How much amount did she spend to donate the books ?

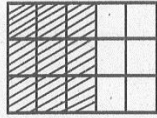
Q. 13) What is the radius of a circular ground of diameter 70 metres ?

Q. 14) How much is  $\frac{3}{4}$  th of 40 ?

Q.15)



$\frac{3}{5}$ th part of the adjoining figure is shaded. The same figure is equally divided as shown below. Write the equivalent fraction of  $\frac{3}{5}$ th for the shaded portion of the second figure.



$$\frac{\boxed{\phantom{00}}}{\boxed{\phantom{00}}} = \frac{3}{5}$$

Q. 16) Subtract.

$$\frac{5}{10} - \frac{2}{6}$$

Q. 17) Write the given mixed fraction in decimal form.

$$5 \frac{9}{10}$$

Q. 18) Write the given fraction in numerals.

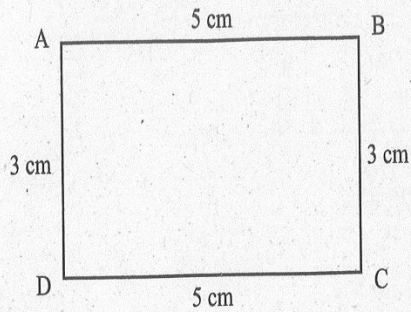
Ten and a half

Q. 19) Write a prime number between 10 and 20.

Q. 20) Write any two multiples of 8.

,

Q. 21) Find the area of the given rectangle.



Q. 22) Write the place value of 6 in the number 312.65

Q. 23) Subtract the decimal fractions.

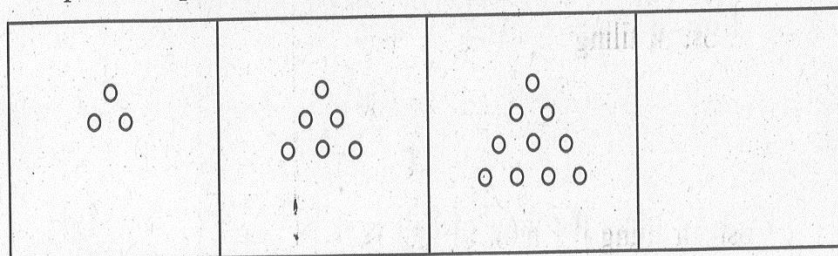
$$64.62 - 32.32$$

Tens	Units	.	Tens	Units

Q. 24) Add the decimal fractions.

$$52.75 + 43.25$$

Q. 25) Complete the pattern of triangular numbers.



Q. 26) Fill in the box using  $<$ ,  $=$ ,  $>$  appropriate symbol between the expressions.

$$25 \div 5 \quad \square \quad 3 + 4$$

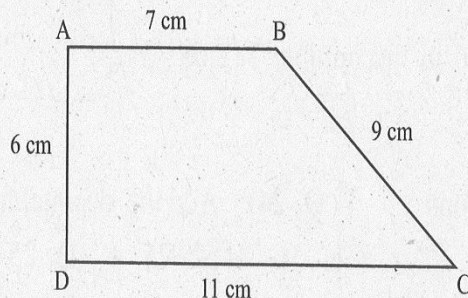
Q. 27) Write the given property in mathematical form by using alphabet 'm' for 'unknown number'.

'The product of a number and zero is equal to zero'.

Q. 28) Fill the correct number in the box.

$$(0 + 5) = (15 \div \square)$$

Q. 29) Find the perimeter of the following figure.



Q. 30) Tiling rectangular floor of a hall of 15 m. length and 10 m. breadth is to be done. What will be the total cost at the rate of ₹ 100 per square metre?

$$\text{Area of the floor} = \text{length} \times \text{breadth}$$

$$= \dots \times \dots$$

$$= \dots \text{ sq.m}$$

$$\text{Cost of tiling} = \text{Area} \times \text{rate}$$

$$= \dots \times 100$$

$$= \dots \text{ ₹}$$

Cost for tiling the floor of hall is ₹

Q. 31) Find the length of the side of a square whose perimeter is 40 cm. ?

Q. 32) In a clock how many hours are completed when minute hand completes 5 rotations ?

hrs.

Q. 33) Neeta played cricket for 1 hr. 30 min. and badminton for 45 min. How much time did she spend in all for sports ?

Q. 34) 1 m. 50 cm. cloth is required to stitch a shirt. How much cloth is needed to stitch 3 such shirts ?

Q. 35) Rohini walked 1000 m. in a walking competition. How many kilometre did she walk ?

1000 m. =  km.

**Q. 36)** John buys one and half litres of milk everyday. The rate of milk is ₹ 35 per litre. How much money does he spend on milk everyday ?


**Q. 37)** Complete the pattern.


1, 2, 4, 8, , 32

**Q. 38)** Subtract.

24 rupees – 11 rupees and 50 paise

**For Q. 39 and 40 :**

Each student has grown one plant. The information about it is given in the table below. complete a pictograph using one  = 5 students as scale.

	Type of Tree	Number of Students	Pictograph
	Mango	25	
<b>Q. No. 39</b>	Teak	15	
<b>Q. No. 40</b>	Custard Apple	5	



प्रथम भाषा : इंग्रजी - इयत्ता : पाचवी



Maharashtra Vidya Pradhikaran, Pune-30

Pragat Shaikshanik Maharashtra

Educational Achievement Test

Summative Evaluation 2 : 2016-17

Standard : Fifth - Subject : English (Written)

Name of the Student : \_\_\_\_\_

Name of the School : \_\_\_\_\_

Cluster : \_\_\_\_\_ Taluka : \_\_\_\_\_ District : \_\_\_\_\_ Date : / 04 / 2017

Roll No. :  Div. :  Marks obtained :

Teacher's Signature : \_\_\_\_\_ Written marks :

Q. 1. Listen and Write. (5 Marks)

1) \_\_\_\_\_ 2) \_\_\_\_\_

3) \_\_\_\_\_ 4) \_\_\_\_\_

5) \_\_\_\_\_ 6) \_\_\_\_\_

7) \_\_\_\_\_ 8) \_\_\_\_\_

9) \_\_\_\_\_ 10) \_\_\_\_\_



**Read the given passage.**

What a farmer needs most for his fields is a good source of water. Kasim had his eye on a well that was just outside the boundary of his field. But Ahmad, the man, who owned the well, was a crafty old man. He wouldn't allow anyone to draw water from his well. He told Kasim, "Why do you come to me again and again to beg for access to my well ? I feel sorry to turn down your request every time. I have a suggestion for you. Collect some money and buy the whole well from me."

**Now answer the following questions. (5 Marks)**

**Q. 2.** Who was the owner of the well ? (Circle the correct answer.) (1 Mark)

- a) Kasim
- b) Ahmad
- c) both of them

**Q. 3.** Describe Ahmad's nature ? (2 Marks)

---

---

---

**Q. 4.** Why did Kasim go to Ahmad again and again ? What did Ahmad suggest him ? (2 Marks)

---

---

---

---

**Read the given passage.**

Pearls are as valuable as other jewels, but there is a difference between pearls and the other gemstones like diamonds, rubies, emeralds or sapphires. We get diamonds and other gemstones from rocks in mines. They are minerals. We get pearls from living creatures known as oysters.

Oysters are a kind of shellfish. They live in water. An oyster has a soft body. It is protected by a shell made up of two parts held together by an elastic ligament. The two parts can open and close. When an oyster faces a danger, the shell closes up tightly.

**Now answer the following questions. (5 Marks)**

**Q. 5.** Where do we get diamonds and other gemstones from ? (1 Mark)  
(Circle the correct answer.)

- a) from rocks.
- b) from rocks in the sea water.
- c) from rocks in mines.

**Q. 6.** What is the difference between pearls and other gemstones ? (2 Marks)

---

---

**Q. 7.** How is an Oyster's body protected ? How is a shell useful for an Oyster ? (2 Marks)

---

---

---

**Read the given extract.**

Lark-bird, lark-bird, soaring high  
Are you never weary ?  
When you reach the empty sky  
Are the clouds not dreary ?  
Don't you sometimes long to be  
A silent goldfish in the sea ?  
Goldfish, goldfish, diving deep,  
Are you never sad, say ?  
When you feel the cold waves creep  
Are you really glad, say ?  
Don't you sometimes long to sing  
And be a lark-bird on the wing ?

**Now answer the following questions.**

- Q. 8.** Who is soaring high ? (Circle the correct answer.) (1 Mark)  
a) an eagle      b) a lark bird      c) a parrot
- Q. 9.** What does the poet think about the clouds in the sky ? (2 Marks)  
(Circle the correct answer.)  
a) the clouds in the sky are colourful.  
b) the clouds in the sky are having various shapes.  
c) the clouds are colourless and boaring.
- Q. 10.** What does the poet imagine, when..... (2 Marks)  
(Circle the correct answer.)  
**A)** The goldfish dives deep in the water -  
a) Is he always happy ?  
b) Is he never sad ?  
c) None of the above.  
**B)** The cold waves creep the body of the goldfish -  
a) Is he really glad ?      b) Is he sad ?      c) None of the above.

**Q. 11 to 17 : Do as directed.**

**Q. 11.** Fill in the blank with the suitable option from the bracket. (1 Mark)

Most \_\_\_\_\_ work more than ten hours a day at home.  
(housewife / housewives)

**Q. 12.** Identify and underline the adjectives in the following sentence. (1 Mark)

She is a beautiful girl who sings melodious songs.

**Q. 13.** Underline the ~~abstract~~ noun in the following sentence. (1 Mark)

Though he is poor, he is an honest man.

**Q. 14.** Fill in the blank with the proper word from the bracket. (1 Mark)

My uncle is a good \_\_\_\_\_ (host / hostess)

**Q. 15.** Underline the verb in the following sentence and state its tense. (2 Marks)

Meena put her books in the cupboard.

**Q. 16.** Rewrite the following sentence using proper punctuation marks. (2 Marks)

meena said, i cant thank you, Sania.

**Q. 17.** Identify the subject and predicate from the following sentence and write it. (2 Marks)

The next event is the javeline throw.

**Q. 18.** Develop a story based on the given situation.

(5 Marks)

Abha, Roshan, Diya and Anuj were playing in the garden. Some other children were also playing there. They saw a little puppy hiding under a bench and started teasing it. But these four were not happy .....

---

---

---

---

---

---

---

---

---

---

---

---

---

---

---

---

---

---

---

---

---

---

---

---

**Q. 19.** Develop a story using the following words.

(5 Marks)

kitten, vet, Tausif, village.

---

---

---

---

---

---

---

---

---

---

---

---

---

---

---

---

---

---

---

---

---

---

---

---

